

KINGDOM OF BAHRAIN

QUALITY ASSURANCE AUTHORITY for  
EDUCATION and TRAINING

National Examinations Unit

Grade 3 National Examinations

مملكة البحرين

هيئة ضمان جودة التعليم والتدريب

وحدة الامتحانات الوطنية

الامتحانات الوطنية للصف الثالث

May 2009

امتحان مايو ٢٠٠٩

MATHEMATICS

الرياضيات

Paper 1

الورقة ١

مدة الامتحان : ٤٥ دقيقة

اكتب الإجابة في ورقة الأسئلة

الأدوات الإضافية : مسطرة ، ممحاة

ملاحظة : القياسات على الرسم غير حقيقية

الصق هنا الرقم السكاني للطالب

اقرأ أولاً التعليمات الآتية :

استعمل القلم الرصاص .

لا تكتب على الهامش العمودي .

أجب عن الأسئلة كلها .

ممنوع استعمال الآلة الحاسبة .

١ أكمل العبارات التالية باستخدام الشهور الهجرية :

( أ ) يأتي عيد الفطر في شهر \_\_\_\_\_ [١]


(ب) يأتي شهر محرم مباشرة بعد شهر \_\_\_\_\_ [١]

٢ حوِّط الرقم الذي قيمته عشرين في العدد :

٢٢

[١]

٣



اكتب التعبير اللفظي للعدد المئين على سيارة السباق .

[١]

٤ اوجد ناتج :

$$= ٦١ + ٢٦$$

[١]

٥ اوجد ناتج :

$$= 40 + 34$$

[١]

\_\_\_\_\_

٦ ضع علامة ✓ في ( ) على العملة ذات القيمة الأكبر :



( )



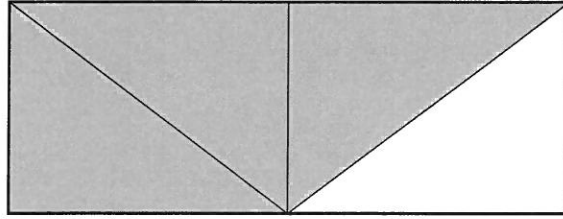
( )



( )

[١]


٧ اكتب رمز الكسر الذي يمثل المنطقة المظللة :



[١]

\_\_\_\_\_


٨ اكتب الوقت المبين على الساعة أدناه :



[١]

\_\_\_\_\_

٩ اشترت سارة قميصين ، سعر كل قميص منهما ٤٢ دينار .



( أ ) ما مجموع النقود التي أنفقتها ؟

[١]

\_\_\_\_\_

(ب) إذا دفعت سارة للبائع ١٠٠ دينار بحريني ، فما هو المبلغ الذي يرده البائع لها ؟

[١]

\_\_\_\_\_



١٠ اشترى زيد لعبة ثمنها ١٥ ديناراً وكُرتيَّ قدم ثمن كل واحدة منهما ٥ دنانير .

ما المبلغ الذي صرفه ؟





[١]

دينار

---

١١ ما طول البرج الذي أمامك ؟

تعني وحدة  
قياس واحدة




[١]

وحدة قياس

---

١٢ يوضح الجدول أدناه مواعيد نوم بعض الطلاب :

عدد الطلاب	الوقت
☺☺☺☺	السابعة مساءً
☺☺☺☺☺☺☺☺☺	السابعة والنصف مساءً
☺☺☺☺	الثامنة مساءً

☺ = طالباً واحداً

( أ ) ما هو عدد الطلاب الذين يذهبون إلى النوم في الساعة الثامنة مساءً ؟

[١]

\_\_\_\_\_

( ب ) ما عدد جميع الطلاب ؟

[١]

\_\_\_\_\_

١٣ ضع العدد المناسب في  :

[١]

$$٧٢ = \text{  } \times ٨$$

١٤ من خلال سلسلة الأعداد التالية :

١٠ ، ٢٠ ، ٣٠ ، ٤٠ ، ...

( أ ) ما هو العدد التالي في هذه السلسلة ؟

[١]



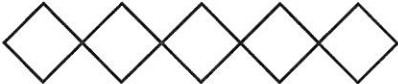
\_\_\_\_\_

( ب ) اشرح كيف توصلت إلى ذلك .

[١]

\_\_\_\_\_

١٥ لاحظ الجدول التالي :

عدد المربعات		
١		نموذج ١
٣		نموذج ٢
٥		نموذج ٣
		نموذج ٤

ما عدد المربعات في نموذج ٤ ؟

[١]

عدد المربعات = \_\_\_\_\_

١٦ لدى عائشة النقود التالية :



أرادت عائشة أن تشتري بعض الحلوى بثمان ١٣٥ فلساً .  
حوط ثلاث قطع نقدية تحتاجها عائشة لشراء الحلوى.

[١]

١٧ يوضح الجدول بعض الحقائق عن بعض الطلاب :


يستخدمون اليد اليسرى	يستخدمون اليد اليمنى	
٣	٨	الأولاد
٩	٦	البنات

ما عدد الطلاب الذين يستخدمون اليد اليمنى ؟

[١]



١٨ نظر أحمد من نافذة منزله ورأى وسائل النقل التالية :

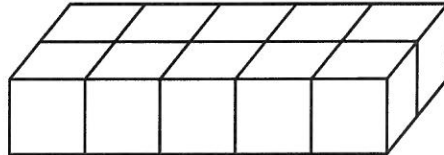


أكمل الجدول التالي باستخدام المعلومات السابقة :

العدد	وسيلة النقل

[٢]

١٩ ما هو حجم الشكل التالي المكوّن من مكعبات متماثلة طول حروفها ١ سم؟



[٨]

٢٠ رتب الكسور التالية ترتيباً تنازلياً :

$$\frac{3}{4}$$

$$\frac{3}{8}$$

$$\frac{5}{8}$$

الأصغر

الأكبر

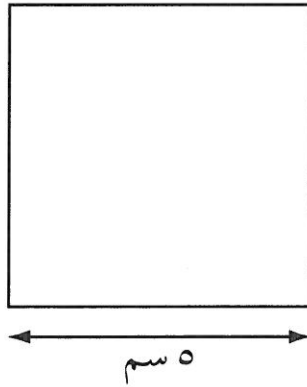
[١]

٢١ اوجد ناتج :

$$\begin{array}{r} 639 \\ - \\ 413 \\ \hline \end{array}$$

[١]

٢٢ اوجد محيط المربع التالي :



[١]

سم

١١

٢٣ ضع العدد المناسب في  :

$$٨ + ٩٠ + \boxed{\phantom{00}} + ٤٠٠٠ = ٤٣٩٨$$

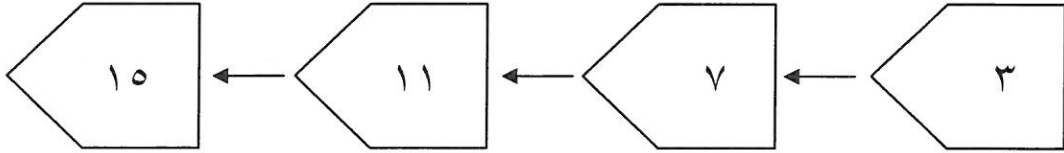
[١]

٢٤ حوِّط الجملة الرياضية التي ناتجها يساوي صفر :

[١]

$$٨ + ٠ \quad ٠ \times ٨ \quad ٠ - ٨ \quad ٠ + ٨$$

٢٥ ما هو العدد الذي أضيف في كل مرة ؟



[١]

٢٦ اوجد ناتج :

$$= ٢٣٥ + ٩٨٣$$

[١]


٢٧ اكتب كسرين مكافئين مختلفين للكسر  $\frac{3}{6}$

لاستعمال  
الممتحن

[١]

---

٢٨ ما هو رمز الكسر الذي تمثله المثلثات المظللة ؟




[١]

---

٢٩ جمع يوسف ٣٠٧ + ٤٨٩

ضع علامة ✓ في المربع المقابل للتقدير المناسب :

حوالي ٥٠٠

حوالي ٧٠٠

حوالي ٨٠٠

[١]

٣٠ لدى عبدالله ٤٨ كيلو من التفاح ، ويريد أن يوزعها على ٨ أكياس . فكم كيلو  
تفاح يضع في كل كيس ؟

[١]



---




٣١ في ما يلي عدد الكتب المستعارة من المكتبة خلال أسبوع :

اليوم	عدد الكتب المستعارة
الأحد	١٠
الاثنين	١٢
الثلاثاء	٨
الأربعاء	٥
الخميس	٤

أكمل بالرسم الجدول التالي لتوضح هذه المعلومات .

	الأحد
	الاثنين
	الثلاثاء
	الأربعاء
	الخميس

 = كتابين

[٢]

٣٢ فكرت حصة في عدد وزادت عليه ٥٠ ثم طرحت ٥ فحصلت على العدد ٧٠

فما العدد الذي فكرت فيه حصة ؟

[١]

٣٣ خزانة بها ٣ أرفف وتحتوي على ٢٠٠ كتاب .

وُضِعَ على الرَّفِّ الأول ٨٠ كتابًا ووُضِعَ على الرَّفِّ الثاني ٧٥ كتابًا .

فكم عدد الكتب الموجودة على الرَّفِّ الثالث ؟ وضح طريقة الحل .

[٢]



---

May 2009

MATHEMATICS

Paper 1

الرياضيات

الورقة ١

---

---

إن الإذن بإعادة طباعة أو نشر مواد تعود ملكيتها الفكرية لطرف ثالث أو تقع تحت طائلة قانون الحماية الفكرية وحقوق الطبع قد تم التحقق منها أو التماس الإذن بطبعها من المالك لها بقدر الإمكان. وكل الجهود الممكنة قد تم بذلها من قبل الناشر (هيئة ضمان جودة التعليم والتدريب) للتواصل مع مالكي حقوق الطبع وأخذ الإذن منهم لعملية إعادة الطبع، ولكن في حال وجود مواد بحاجة للترخيص فإن ذلك قد تم دون علم أو قصد الناشر، وسيقوم الناشر بإصلاح هذا الخلل في أقرب وقت ممكن.