

KINGDOM OF BAHRAIN

QUALITY ASSURANCE AUTHORITY for
EDUCATION and TRAINING

National Examinations Unit

Grade 3 National Examinations

مملكة البحرين

هيئة ضمان جودة التعليم والتدريب

وحدة الامتحانات الوطنية

الامتحانات الوطنية للصف الثالث

May 2009

امتحان مايو ٢٠٠٩

MATHEMATICS

الرياضيات

Paper 2

الورقة ٢

مدة الامتحان : ٤٥ دقيقة

اكتب الإجابة في ورقة الأسئلة

الأدوات الإضافية : مسطرة ، ممحاة

ملاحظة : القياسات على الرسم غير حقيقية

الصق هنا الرقم السكاني للطالب

اقرأ أولاً التعليمات الآتية :

استعمل القلم الرصاص .

لا تكتب على الهامش العمودي .

أجب عن الأسئلة كلها .

ممنوع استعمال الآلة الحاسبة .

١ حوِّط العدد الأكبر :

٥٦

٤٥

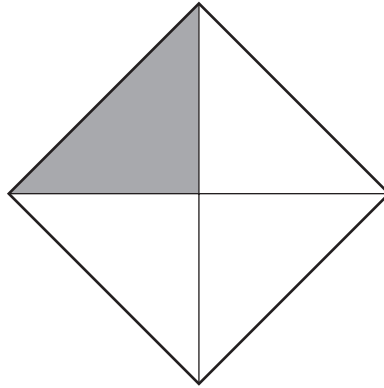
٣٤

[١]

٢ في أي شهر من أشهر السنة الهجرية يحتفل المسلمون بعيد الأضحى المبارك ؟

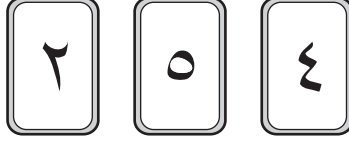
[١]

٣ اكتب رمز الكسر الذي يمثل المنطقة المظللة :



[١]

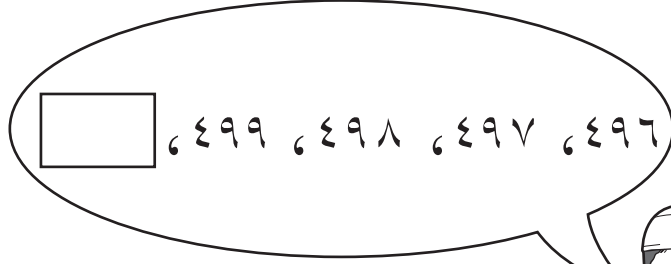
٤ ما أكبر عدد يمكن تكوينه من البطاقات المرقمة التالية ؟



[١]

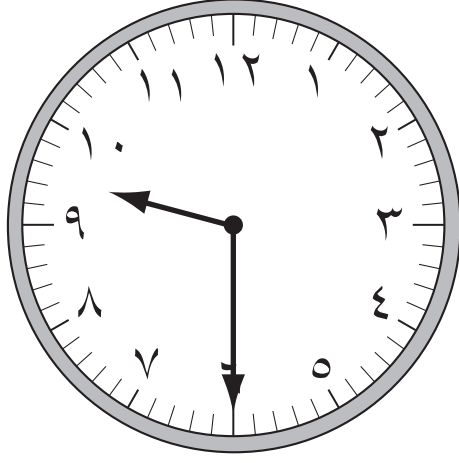
٥ يَعدُّ أنور بالآحاد .

اكتب العدد التالي في :




[١]

٦ اكتب الوقت المبين على الساعة أدناه :



[١]

٧ لدى عاطف ٢٣ تفاحة ولدى فيصل ٣٥ تفاحة .
ما عدد التفاح الذي يمتلكانه معًا ؟

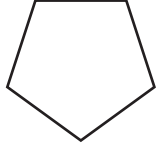


[١]


٨ من خلال الأشكال التالية



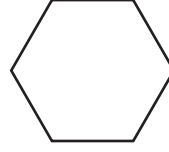
مستطيل



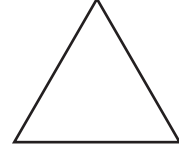
خماسي



مربع



سداسي



مثلث

أكمل الجدول التالي بكتابة أسماء الأشكال السابقة في العمود المناسب :

أشكال بأقل من أربعة أضلاع	أشكال ذات أربعة أضلاع	أشكال بأكثر من أربعة أضلاع


[٢]

٩ اكتب رمز العدد مئة وسبعة .

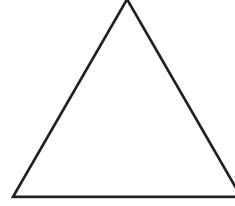
[١]

١٠ صل بين كل شكل واسمه فيما يلي :


دائرة




مربع



مستطيل



مثلث



[١]



١١ حوِّط المبلغ الذي يمكن أن تحصل عليه مستعملًا قطعتين نقديتين معدنيتين .

٤٧٥ فلس

١٤٠ فلس

١٢٥ فلس

٩٥ فلس

[١]



١٢ لدى حمزة ٣٩ طابع بريدي ، ولدى فريد ١٢ طابع بريدي ، ولدى محمد ١٧ طابع بريدي .

ما عدد جميع الطوابع البريدية التي لديهم ؟

[١] _____

١٣ رتب الأعداد التالية ترتيباً تصاعدياً :

٤٥٣ ٣٥٤ ٤٣٥ ٣٤٥


[١] _____ _____ _____ _____
الأصغر الأكبر

١٤ حوِّط الرقم الذي قيمته سبعة آلاف في العدد التالي :

٧٧١٧

[١]

١٥ حوِّط العدد الذي يمثل أفضل تقدير لعدد النجوم الموجودة داخل المستطيل .



١٥٠

٢٠٠٠

٨٠

٢٠

[١]

[١]

١٦ (أ) اكتب $\frac{4}{5}$ في صورة كسر عشري .

(ب) اكتب ٠,٣ في صورة كسر .

[١]

١٧ اوجد ناتج :

$$= ٤٧ + ١٢ + ٣٨$$

[١]

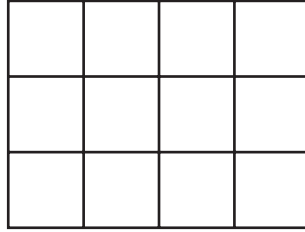
١٨ قم بقياس طول القطعة المستقيمة بالمم .



[١]

طول القطعة المستقيمة = _____ مم

١٩ ما هي مساحة هذا الشكل ؟ (باعتبار وحدة قياس)

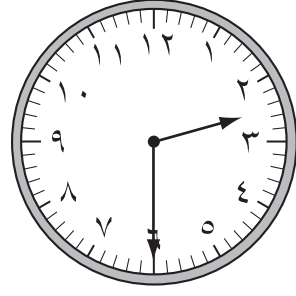


[١]

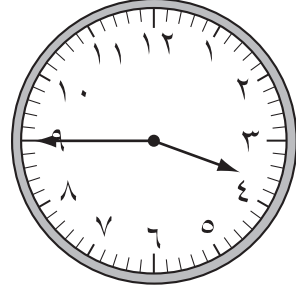


٢٠ اكتب الوقت المبين على كل ساعة من الساعات التالية :

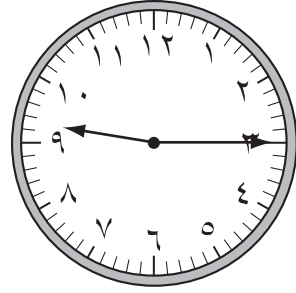
لاستعمال
الممتحن



(أ)



(ب)

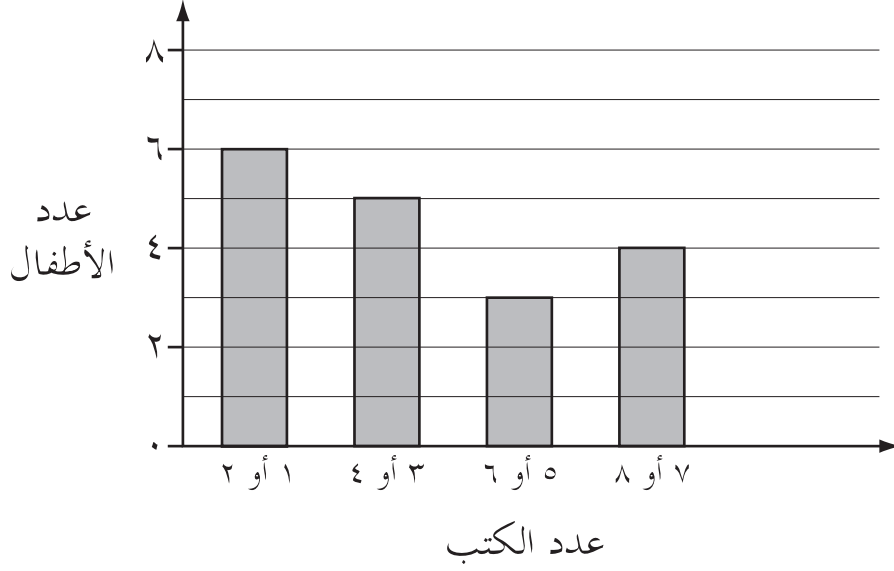


(ج)



[٢]

٢١ يوضح الرسم البياني التالي عدد الكتب التي قرأها بعض الأطفال في فصل فاطمة هذا العام .



كم عدد الأطفال الذين قرأوا ٦ كتب أو أقل ؟

[١]

٢٢ قَدِّر ناتج العملية الحسابية التالية :

$$٣٩٨ - ٧١٤$$

[١]

٢٣ ما العدد الذي إذا ضُرب في ٧ يكون الناتج ٤٢ ؟

[١]

٢٤ من خلال الجدول التالي :

السعر	قرطاسية
٣٥٠ فلس	كراسة
٢٠٠ فلس	قلم رصاص
٩٥ فلس	ممحاة

ما هو ثمن كراستين اثنتين ؟

[١]

فلس _____

٢٥ بين الجدول أدناه عدد الحيوانات التي تتم مشاهدتها في محمية العرين .

التكرار	اسم الحيوان
	ماعز
/	غزال
/	خروف
	حمار وحشي

(أ) ما عدد الغزلان التي تم مشاهدتها في محمية العرين ؟

[١]

(ب) ما عدد جميع الحيوانات التي تم مشاهدتها في المحمية ؟

[١]

٢٦ لدى محل عبد الله ٩٠٠ دينار ، أنفق ٦٥٠ دينارًا منها لشراء بضائع للمحل .

كم دينارًا تبقى مع عبد الله ؟

[١] دينار _____

٢٧ يصلي عبد الرحمن خمس مرات في اليوم ، فما عدد الصلوات التي يصليها خلال أسبوع ؟

اكتب كيف توصلت إلى نتيجتك .

[١] _____

٢٨ صل بين رمز العدد والتعبير اللفظي الدال عليه كما في المثال :

٢٣ ١٣٠ ١٠٣ ١٠٠٣

مئة وثلاثون ثلاثة وعشرون ألف وثلاثة مئة وثلاثة

[١]

٢٩ اوجد ناتج :

$$= ٤١٣ + ١٢٤$$

[١]

٣٠ أكل صلاح $\frac{١}{٩}$ من صندوق الشوكولاتة وأكل محمد $\frac{٢}{٩}$ من نفس صندوق الشوكولاتة .

أيهما أكل أكبر عدد من قطع الشوكولاتة ؟

[١]

٣١ ضع العدد المناسب في :

$$٤٥٠ = ١٢٠ +$$

[١]

٣٢ اكتب التعبير اللفظي لرمز الكسر التالي :


$$\frac{5}{7}$$

[١]

٣٣ تريد سلمى شراء طاولة وأربعة كراسي . سعر الطاولة ٢٨٠ ديناراً وسعر كل كرسي ١٥٥ ديناراً . كم دفعت سلمى للبائع ؟

[١]

٣٤ يوضح الرسم البياني التالي ألوان عيون بعض الطلاب في الفصل :



كم يزيد عدد الطلاب ذوي العيون السوداء عن عدد الطلاب ذوي العيون البنية ؟

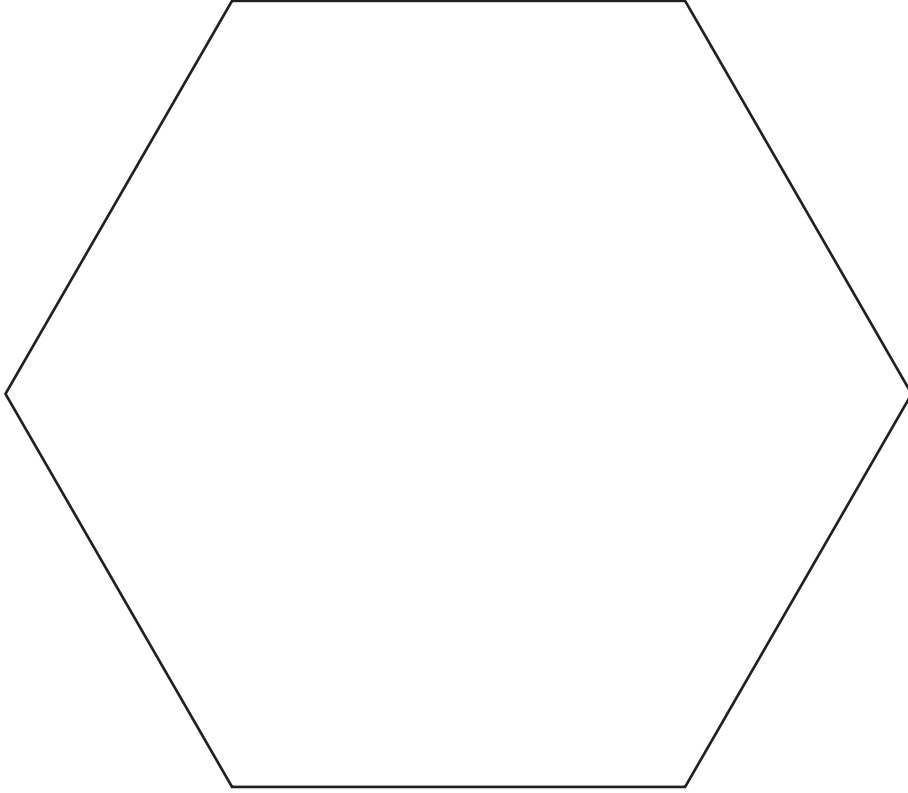
[١]

٣٥ قامت لطيفة بالعد بالآلاف ، فما العددان التاليان ؟

_____ ، _____ ، ٣٤٧٢ ، ٢٤٧٢ ، ١٤٧٢

[١]

٣٦ ارسم خطين مستقيمين على الشكل التالي لتقسم الشكل إلى مثلثين متطابقين ومستطيل .



[١]

May 2009

MATHEMATICS

Paper 2

الرياضيات

الورقة ٢

إن الإذن بإعادة طباعة أو نشر مواد تعود ملكيتها الفكرية لطرف ثالث أو تقع تحت طائلة قانون الحماية الفكرية وحقوق الطبع قد تم التحقق منها أو التماس الإذن بطباعتها من المالك لها بقدر الإمكان. وكل الجهود الممكنة قد تم بذلها من قبل الناشر (هيئة ضمان جودة التعليم والتدريب) للتواصل مع مالكي حقوق الطبع وأخذ الإذن منهم لعملية إعادة الطبع، ولكن في حال وجود مواد بحاجة للترخيص فإن ذلك قد تم دون علم أو قصد الناشر، وسيقوم الناشر بإصلاح هذا الخلل في أقرب وقت ممكن.